

RANDONNÉE LUDIQUE

POUR PETITS ET GRANDS

Martigues
Parc de Figuerolles



© Randoland

**Visiter
en
s'amusant**

Office de Tourisme et des Congrès
de Martigues
Rond-point de l'Hôtel de Ville
13500 Martigues
04 42 42 31 10
info@martigues-tourisme.com
www.martigues-tourisme.com

Martigues
Office de Tourisme et des Congrès

Moyen



5,4 km

3 h

Parc de Figuerolles

Départ: Parking principal du parc de Figuerolles

GPS: 43.435247N / 5.042110E

Sur 130 ha de verdure, longeant les rives de l'Étang de Berre, le Grand Parc de Figuerolles est un véritable poumon vert pour la commune.

Il nous invite à découvrir notre nature méditerranéenne à pied (sentier des restanques / patrimoine rural et agricole), à poney (espace équestre), en VTT (pistes dédiées), en flânant dans la ferme pédagogique, en parcourant le sentier botanique, et même du haut de la cime des arbres (parcours Accrobranche adulte et enfant).

Pour votre sécurité et pour la préservation des massifs forestiers, l'accès aux espaces naturels est réglementé par arrêté préfectoral de juin à septembre. Renseignez-vous pour la période estivale au 0 1 2 1 3 3 (prix d'un appel local) ou sur www.bouches-du-rhone.pref.gouv.fr ou encore sur www.myprovence.fr/enviedebalade.

Carnet de route

Pensez éventuellement prévoir un pique-nique ou une pause au cours du parcours. Attention, le parcours n'est pas accessible aux poussettes.

Débuter la balade au parking principal du Grand Parc de Figuerolles, entrer dans le parc. Prendre le sentier sur la droite juste après le bâtiment d'accueil. Environ 100 mètres plus loin, se diriger vers la gauche pour observer le bassin d'agrément ①. Passer entre la citerne enterrée et les vestiges du chalet de la famille Deverville pour vous rendre au pied d'un petit tour (le puits-citerne) ②. Prendre la direction du manège. Poursuivre sur le sentier principal et passer à droite de l'accrobranche. Au poney club tourner à gauche. Quelques mètres

Soyez vigilants avec vos enfants notamment sur les zones non piétonnes. Le parcours s'effectue sous votre entière responsabilité. La société Randoland et l'Office de Tourisme déclinent toute responsabilité en cas d'accident.

Plus loin, tourner de nouveau à gauche en direction de la ferme pédagogique et longer de nouveau l'accrobranche. Observer les panneaux à l'entrée de la ferme pédagogique et n'hésitez pas à rentrer faire la visite. ③.

En sortant de la ferme pédagogique, prendre le sentier tout de suite à gauche. Au croisement, s'engager sur le sentier de gauche. Arrivés sur la partie goudronnée, suivre le panneau en direction de l'espace VTT. Traverser la route avec le poney club et entrer dans l'espace dédié au parcours de santé. Rester sur le chemin principal qui part sur la gauche. Passer devant l'espace VTT et continuer sur la droite. Marquer une pause de santé à côté du panneau n° 8 du parcours ④. Après l'atelier n° 12, descendre par le

chemin principal en direction de l'Étang de Berre. Observer la table panoramique « Plateau de Figuerolles » en face de l'atelier n° 11 (à noter : le n° des ateliers est inversé, le 12 est avant le 11) ⑤.

Face à la table panoramique, continuer sur la gauche. Rester sur ce chemin qui descend jusqu'à la plage et observer la deuxième table panoramique « Anse de Figuerolles » ⑥.

Ne pas hésiter à faire un crochet sur la plage. En face de la table panoramique, de l'autre côté du chemin, chercher et observer le totem ⑦.

Au dos du totem, à environ 60 pas, prendre le petit sentier qui monte. Au croisement des sentiers, prendre à gauche. Un peu plus loin, au pied d'une butte, chercher la petite borne du pôle pétrochimique. Prendre alors à gauche le petit sentier qui monte. Continuer tout droit après la montée avec les marches en pierre. Passer sur le petit pont en bois. Quelques mètres plus loin, s'engager dans les escaliers qui montent. Continuer ensuite de monter sur la droite. Arrivés au sommet, tourner à droite. Passer devant la fontaine d'eau potable et continuer sur le sentier pour retrouver le panneau de départ du parcours de santé. Traverser la route goudronnée et aller vers les dinosaures. Continuer sur le sentier en longeant le parking et se diriger vers le poney club. Arrivés aux bâtiments (bassin des écuries), prendre à gauche pour rejoindre l'aire de jeux. Chercher le cabanon de l'âne ⑧.

En sortant du cabanon, partir sur la droite et rejoindre le chemin en graviers qui longe le muret en pierre pour revenir à votre point de départ. Fin de la balade.



4-6 ans



Parc de Figuerolles

L'inspecteur Rando veut se rendre au bord de l'eau. Mais quel parcours va-t-il emprunter ?

Trace le chemin parcouru par l'inspecteur Rando en utilisant les informations de la page suivante. Attention, trace le chemin le plus direct, sans jamais revenir en arrière !

Chaque fois que l'inspecteur Rando tombe sur un objet, il marque un point sur son carnet. Colorie un carnet de la page 1 et un bus de la page 2. N'oublie pas d'aller jusqu'au bord de l'eau !

En fin de parcours, note dans la case réponse le nombre de glaces coloriées.



Tu peux te rendre à l'Office de Tourisme ou sur le site www.rando.com pour vérifier ta réponse (code énigme 1305502P).

© Rando and 2021. Illustrations: Armelle Drouin - AdobeStock - Freepress.com - Pexels



Ta réponse



1 Le bassin d'agrément

Quel dessin correspond à la forme de ce bassin ?
Tu vas découvrir la première étape de l'inspecteur Rando.



5 La table panoramique

Quelle photo correspond à l'oiseau dessiné au centre de cette table panoramique ?



2 Le puits-citerne

Demande à « un grand » le numéro de ton panneau, l'année durant laquelle ce puits fut construit. Quel nuage de chiffres lui correspond ?




6 La table panoramique

Observe le vêtement dessiné sur cette table panoramique. Quel pinceau est de la même couleur que ses bottes ?



3 La ferme pédagogique

Sur un panneau, à droite de l'entrée de la ferme pédagogique, tu peux voir une photo avec plusieurs moutons. Un animal quasiment au centre de la photo est différent. De quel animal s'agit-il ?



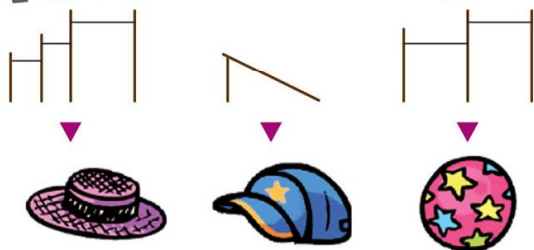
7 Le totem

Observe bien le dos du totem. Quel dessin ressemble le plus à ce qui y est gravé ?



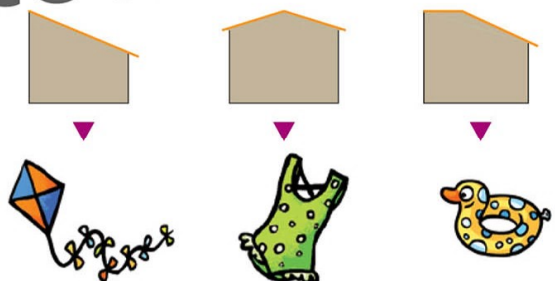
4 Le parcours de santé a été fini

Quelle dessin correspond à cet atelier ?



8 Le cabanon de l'âne

Place toi sur un côté du cabanon. Quel schéma correspond à sa forme ?



1-9 ans



Parc de Figuerolles

ÉNIGME

L'eau est une ressource nécessaire aux humains, aux animaux et aux végétaux. Même s'il suffit parfois simplement d'ouvrir le robinet pour qu'elle coule, au XIX^e siècle c'était autre chose... Dans le parc de Figuerolles, on la pompait dans un étang non loin de là et on la conservait dans des réservoirs : bassins, puits, citernes. Cela permettait d'"alimenter" les fontaines de ce gigantesque parc.

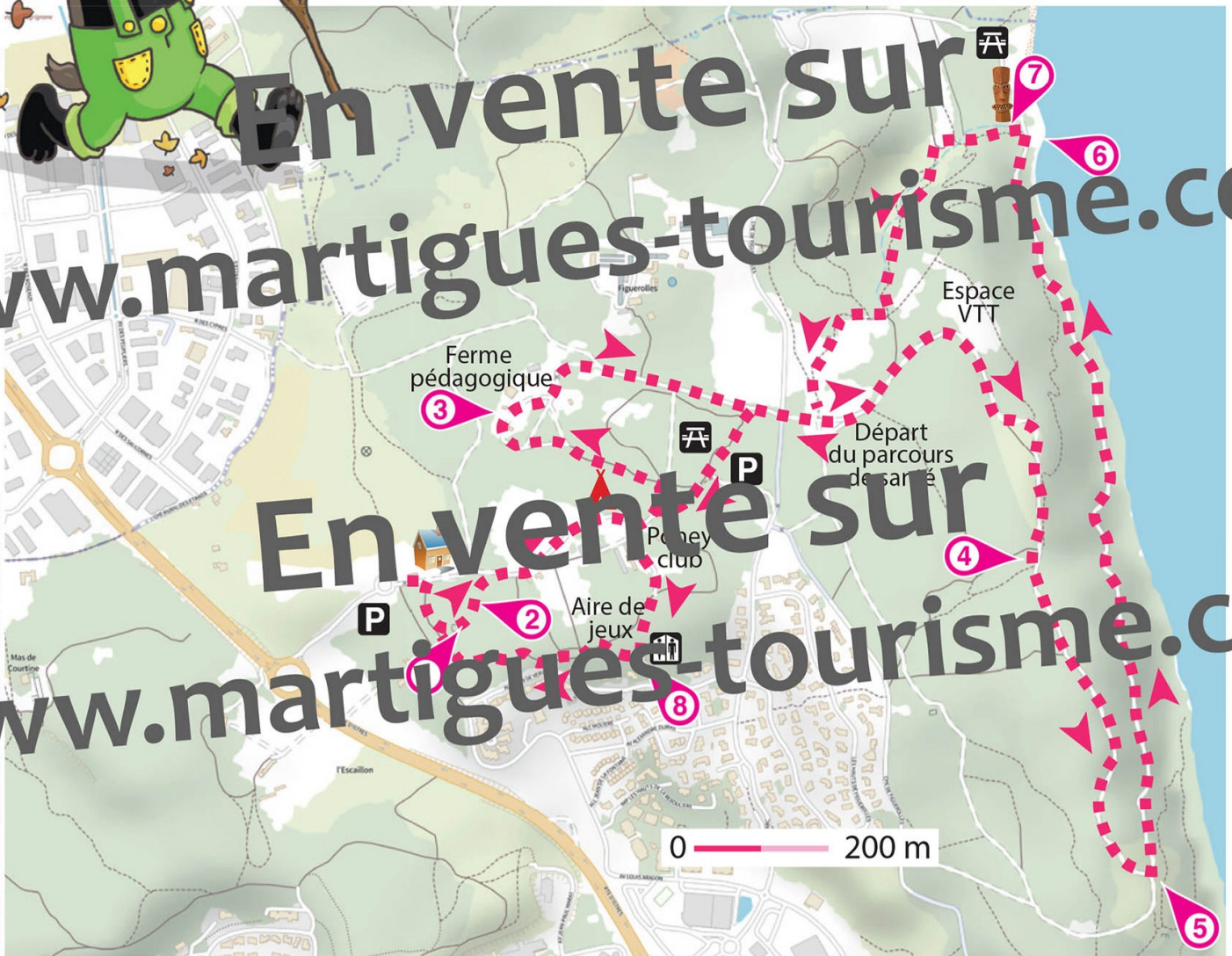
Pour de plus amples informations, observe ces réservoirs comme cette étonnante fontaine en rocailles (mélange de pierres et de végétaux).

Si l'inspecteur Rando tient déjà à te dire de ne pas gaspiller l'eau, il a surtout une mission à te confier. Montre-lui que tu es un brillant enquêteur en découvrant le nom de l'étang où l'on pompait l'eau pour le parc.



Tu disposes du plan ci-dessous. En reliant les cases numérotées, lis les indications qui te permettent de résoudre l'énigme principale.

À ton retour à la maison, avec l'aide de tes parents, rends-toi vite sur le site randoland.fr pour vérifier ta réponse.





Parc de Figuerolles

ÉNIGME

En cette belle journée d'été, l'inspecteur Rando en profite pour mettre son musée dehors et part se balader dans le parc de Figuerolles. Il ne sait plus où donner de la tête tellement il y a de choses à voir...

Mais soudain, il s'immobilise. Que se passe-t-il ? Si ce parc de 130 hectares regorge de végétaux plus beaux les uns que les autres, à cet instant précis son regard ne peut se détacher de la magnifique fleur qui a devant les yeux. Découvre au fil et à mesure de la balade en quel arbuste pousse la jolie fleur que l'inspecteur Rando a repérée. Peut-être auras-tu toi aussi la chance de l'apercevoir... Tous les arbustes de la liste sont présents dans ce parc.



© OtMartigues

LISTE DES ARBUSTES

- ▶ **Sureau noir** ; floraison : juin ; hauteur : 1 à 6 m
- ▶ **Myrica commun** ; floraison : juin à octobre ; H. : 3 m
- ▶ **Filaire à feuilles étroites** ; floraison : mars à mai ; H. : 1 à 4 m
- ▶ **Lilas des Indes** ; floraison : été ; H. : 5 à 7 m
- ▶ **Arbre de Judée** ; floraison : avril ; H. : 10 m
- ▶ **Pistachier lentisque** ; floraison : mai à juillet ; H. : 1,10 à 3 m
- ▶ **Tamaris** ; floraison : mai à août ; H. : 6 m
- ▶ **Arnalier** ; floraison : en février à mars ; H. : 8 m
- ▶ **Laurier-rose** ; floraison : tout l'été ; H. : 4 m

Tu disposes du plan ci-dessous. À l'emplacement des pastilles numérotées, lis les indications qui te permettront de résoudre l'énigme principale.

À ton retour à la maison, avec l'aide de tes parents, rends-toi vite sur le site randoland.fr pour vérifier ta réponse.





Lors du passage devant chacun des indices lis attentivement les indications fournies. Elles te permettront de résoudre l'énigme posée au verso de cette page.

1 Le bassin d'agrément

Trouve le mot manquant à l'aide du panneau. "Il est agrémenté d'une fontaine en ..."

Quelle lettre de ce mot est la plus loin dans l'alphabet ?

L'arbuste dont le nom commence par cette lettre n'est pas celui recherché. Raye-le de la liste !

2 Le puits-citerne

L'inspecteur Rando a demandé à trois amies de compter les pierres en comptant l'œil. Elles ont une voûte au-dessus de la piscine.

IRIS : 15 < ... < 20

LILY-ROSE : 20 < ... < 25

ROMAIN : 25 < ... < 30

Le nom de l'arbuste commence avec le préfixe de cette lettre. A-t-elle proposé le bon intervalle. Supprime-le de la liste ! Ce n'est pas lui que tu recherches.

3 La ferme pédagogique

Complète ce texte à trous avec les lettres ci-dessous en t'aidant du panneau des consonnes :

A B É G H I L L L N O O T T V

Son prénom est _____ et il n'aime pas les sportifs qui viennent faire du _____ ou jouer au _____ dans la ferme pédagogique.

Avec les lettres restantes, tu peux écrire un mot. Lequel ?

Ce chiffre correspond à la hauteur maximale d'un des arbustes. Ce n'est le bon. Raye-le de la liste !

4 Le parcours de santé, atelier n° 8

Voilà ce qu'ont compris deux amis en lisant les indications du panneau.

PAOLO : Le sportif doit faire cinq fois plus de tractions sur les barres fixes que la famille.

TEDDY : Non, le sportif doit en faire deux fois plus que la famille.

L'arbuste qui a le même nombre de lettres que le prénom de l'enfant qui a raison est à enlever de la liste.

5 La table panoramique

Amuse-toi avec l'oiseau au plumage noir. Sachant qu'une consonne vaut + 2 et une voyelle - 1, calcule la valeur de son nom.

Ex. : RANDO → 2 - 1 + 2 + 2 - 1 = 4

Ton résultat correspond à un mois de l'année.

Ex. : 1 → Janvier ; 2 → Février ; etc.

L'arbuste dont la floraison se termine ce mois-là est à supprimer de la liste.

6 La table panoramique

Cherche le poisson juste devant le pêcheur, sous sa ligne. Remplace une lettre du nom de ce poisson par une autre lettre pour qu'il devienne un objet qui se boit.


Ex. : POISSON → BOISSON

La lettre de remplacement n'a pas sa place à la fin du mois de floraison de l'arbuste recherché.

Élimine-le de la liste !

7 Le totem

Quel dessin est identique à celui que tu peux voir au dos du totem ?



F

L

M

Raye l'arbuste dont le nom commence par la même lettre que celle inscrite sous le bon dessin.

8 Le cabanon de l'âne

Aide-toi du panneau pour calculer le périmètre au sol de ce cabanon.

UN PEU D'AIDE :

Le périmètre est la longueur du contour d'une figure. On calcule le périmètre d'un rectangle comme suit : (longueur x 2) + (largeur x 2).



Le chiffre des unités de ton résultat correspond exactement à la taille minimale d'un des arbustes. Raye-le de la liste !

Circuit n° 1305602G

Tu devrais maintenant connaître le nom de l'arbuste sur lequel se trouve la fleur que l'inspecteur Rando a admirée.

Ta réponse :

Tu peux vérifier ta réponse à l'Office de Tourisme ou sur le site internet Randoland.fr